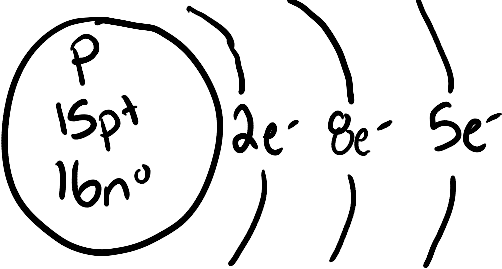
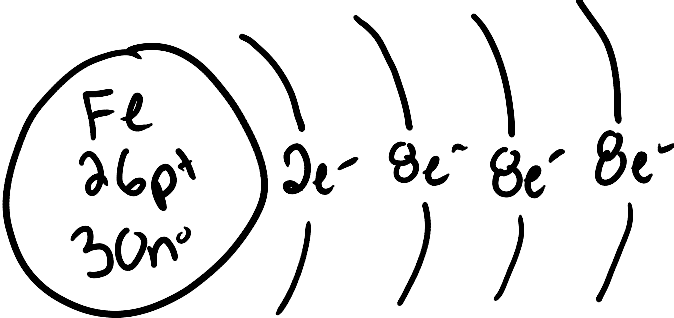



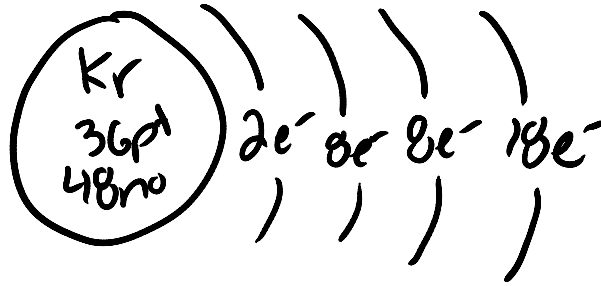
Nom: _____
Block: _____ Date: _____

Sciences 10 : Les Modèles Bohr

Dessine les modèles Bohr pour les éléments suivants.

<p>Phosphore</p> 	<p># de protons <u>15</u></p> <p># de neutrons <u>16</u></p> <p># d'électrons <u>15</u></p> <p># d'électrons dans le niveau d'énergie externe <u>5</u></p>
<p>Fer</p> 	<p># de protons <u>26</u></p> <p># de neutrons <u>30</u></p> <p># d'électrons <u>26</u></p> <p># d'électrons dans le niveau d'énergie externe <u>8</u></p>
<p>Potassium</p> 	<p># de protons <u>19</u></p> <p># de neutrons <u>20</u></p> <p># d'électrons <u>19</u></p> <p># d'électrons dans le niveau d'énergie externe <u>1</u></p>

Krypton



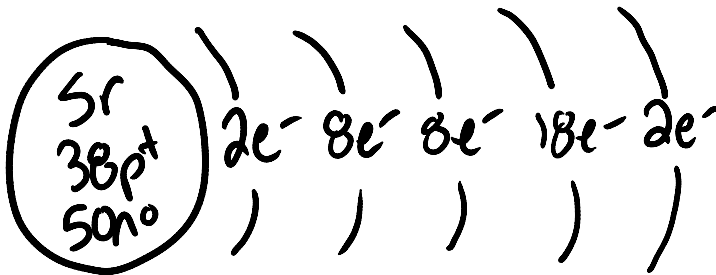
de protons 36

de neutrons 48

d'électrons 36

d'électrons dans le
niveau d'énergie
externe 18

Strontium



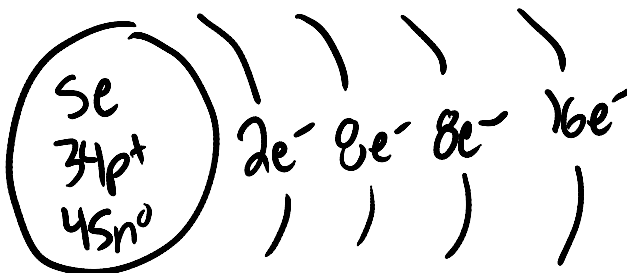
de protons 38

de neutrons 50

d'électrons 38

d'électrons dans le
niveau d'énergie
externe 2

Sélénium



de protons 34

de neutrons 45

d'électrons 34

d'électrons dans le
niveau d'énergie
externe 6